

Wiskunde

TOETS 1

Punte: 40

Tyd: 60 minute

1. Vul die ontbrekende getalle in. (4)

1.1

1	2			5		7	8		10
---	---	--	--	---	--	---	---	--	----

1.2

10	20		40		60			90	100
----	----	--	----	--	----	--	--	----	-----

2. Verbind die regte woord en getal met 'n lyn. (3)

ses	4
vier	10
tien	6

3. Tel die sterre. Skryf die getal in die kassie regs. (3)

3.1

	<input type="text"/>
---	----------------------

3.2

	<input type="text"/>
--	----------------------

3.3

	<input type="text"/>
---	----------------------

4. Kyk na die huisies.

(4)



4.1 Kleur die eerste huisie rooi in.

4.2 Kleur die derde huisie blou in.

4.3 Kleur die laaste huisie groen in.

4.4 Kleur die vyfde huisie geel in.

5. Voltooi die getallesinne.

(4)

5.1

$$14 + 3 = \square$$

5.2

$$8 - 2 = \square$$

$$24 + 3 = \square$$

$$18 - 2 = \square$$

$$34 + 3 = \square$$

$$28 - 2 = \square$$

$$\square + 3 = \square$$

$$\square - 2 = \square$$

6. Halveer die getalle.

(3)

6.1 Die helfte van 6 is \square .

6.2 Die helfte van 8 is \square .

6.3 Die helfte van 10 is \square .

7. Verdubbel die getalle.

(3)

7.1 Dubbel 2 is \square .


7.2 Dubbel 4 is \square .

7.3 Dubbel 10 is \square .

8. Tel die voëltjies in die raampie.

(2)

8.1 Omkring 8 voëls.




8.2 Hoeveel voëls is oor?


9. Voltooi die patrone.

(2)

9.1



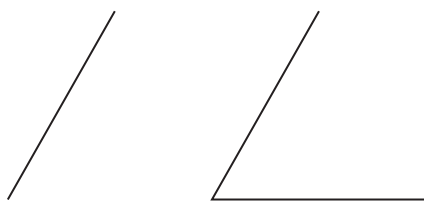
9.2




10. Wat volg?

(2)

10.1



10.2




II. Trek 'n lyn van elke sin na die regte prentjie.

(4)


II.1 Stinkie sit langs sy hok.

a.




II.2 Stinkie sit agter sy hok.

b.




II.3 Stinkie sit binne sy hok.

c.




II.4 Stinkie sit voor sy hok.

d.





12. Is die bal binne-in die boks? Omkring die regte antwoord. (1)




ja nee

13. Rangskik die prentjies van jongste na oudste. Skryf 1, 2, 3. (3)




14. Trek 'n kruisie (x) binne-in al die sirkels. (2)




Antwoorde en vaardigheidstabelle

Wiskundetoets I

- 1.1 3, 4, 6, 9
 1.2 30, 50, 70, 80 $(8 \times \frac{1}{2} = 4)$
 2. ses 6, vier 4, tien 10 (3)
 3.1 7
 3.2 11
 3.3 3 (3)
 4. Jou kind kleur die eerste huisie rooi in, die derde een blou, die vyfde een geel en die laaste een groen. (4)
 5.1 17, 27, 37, (44, 47)
 5.2 6, 16, 26, (38, 36) $(8 \times \frac{1}{2} = 4)$
 6.1 3
 6.2 4
 6.3 5 (3)
 7.1 4
 7.2 8
 7.3 20 (3)
 8. Daar is 10 voëls.
 8.1 Jou kind omkring 8 voëls.
 8.2 2 (2)
 9.1 

9.2  (2)

10.1 

10.2  (2)

11.1 b.

11.2 d.

11.3 a.

11.4 c. (4)

12. ja (1)

13. 1. baba, 2. seun, 3. ou man (3)



14.  (2)

Totaal: 40

Afdeling van die kurrikulum	Vraag-nummer	Moeilikeids-grad	Soortgelyke vrae	Nog aktiwiteite vir ekstra oefening
Getalle, bewerkings en verhoudings	1	maklik	Toets 2 Vraag 1 Toets 3 Vraag 2 Toets 4 Vrae 1 & 5	<i>Slimkoppe Wiskunde</i> Graad 1 (blou bladsye)
	2	medium	Toets 2 Vrae 5 & 6 Toets 3 Vraag 2 Toets 4 Vraag 2	<i>Slimkoppe-vaardighede:</i> <i>Optel en aftrek</i> Graad 1 tot 3
	3	medium	Toets 2 Vraag 2 Toets 3 Vraag 2 Toets 4 Vraag 6	<i>Slimkoppe-vaardighede:</i> <i>Maal en deel</i> Graad 1 tot 3
	4	uitdaging	Toets 2 Vraag 3	
	5	uitdaging	Toets 2 Vraag 4 Toets 3 Vraag 3	
	6	uitdaging	Toets 1 Vraag 7 Toets 2 Vraag 11 Toets 3 Vraag 6	
	7	uitdaging	Toets 1 Vraag 6 Toets 2 Vraag 11 Toets 3 Vraag 6	
	8	medium tot uitdaging	Toets 2 Vraag 2 Toets 3 Vraag 1 Toets 4 Vraag 6	

Afdeling van die kurrikulum	Vraag-nummer	Moeilikhedsgraad	Soortgelyke vrae	Nog aktiwiteite vir ekstra oefening
Getalle, bewerkings en verhoudings	9	maklik	Toets 1 Vraag 10 Toets 2 Vraag 15 Toets 3 Vraag 12 Toets 4 Vrae 13 & 14	<i>Slimkoppe Wiskunde</i> Graad 1 (blou bladsye)
	10	medium	Toets 1 Vraag 9 Toets 2 Vraag 15 Toets 3 Vraag 12 Toets 4 Vrae 13 & 14	
Ruimte en vorm	11	medium	Toets 1 Vraag 12 Toets 2 Vraag 17 Toets 3 Vraag 14	<i>Slimkoppe Wiskunde</i> Graad 1 (groen bladsye)
	12	maklik	Toets 1 Vraag 11 Toets 2 Vraag 17 Toets 3 Vraag 14	
Meting	13	medium	Toets 2 Vrae 19 & 20 Toets 3 Vraag 15 Toets 4 Vrae 18 & 19	<i>Slimkoppe Wiskunde</i> Graad 1 (rooi bladsye)
Datahantering	14	medium	Toets 2 Vraag 21 Toets 3 Vraag 17 Toets 4 Vraag 20	<i>Slimkoppe Wiskunde</i> Graad 1 (geel bladsye)

Wiskundetoets 2

- | | | | | | |
|-----|-------------|------------------------------|------|--|-----|
| 1. | 2, 5, 8, 10 | | 10. | Jou kind verbind die kolletjies om 'n slangprentjie te voltooi. | (2) |
| 1 | 7 | $(4 \times \frac{1}{2} = 2)$ | 11. | 48 | (1) |
| 2 | 8 | | 12. | 35 | (1) |
| 3 | 2 | (3) | 13. | 17 | (1) |
| 3.1 | 2.2 | | 14. | 42 | (1) |
| 3.2 | 2.3 | (2) | 15.1 |  | |
| 4.1 | - | | 15.2 |  | (2) |
| 4.2 | - | | 16. | piramide en driehoek, televisie en reghoek, suigstokkie en sirkel | (3) |
| 4.3 | + | (3) | 17.1 | regs | |
| 5.1 | sewe | | 17.2 | links | (2) |
| 5.2 | twee | | 18. | Dinsdag | (1) |
| 5.3 | een | (3) | 19. | baksteen | (1) |
| 6.1 | 5 | | 20. | die kort potlood | (1) |
| 6.2 | 3 | | 21.1 | 8 | |
| 6.3 | 8 | (3) | 21.2 | 10 | (2) |
| 7.1 | 4 | | | | |
| 7.2 | 10 | (2) | | | |
| 8.1 | 9 | | | | |
| 8.2 | 6 | (2) | | | |
| 9.1 | 6 | | | | |
| 9.2 | 5 | (2) | | | |

Totaal: 40